

平成 31 年度入学試験問題（前期日程）

家 庭






（中等教育教員養成課程 家庭専攻）

注意事項

1. 解答は、すべて別紙解答紙の指定の箇所に記入すること
2. 解答紙には、必ず受験番号を記入すること

〔 1 〕 次の問いに答えなさい。

衣類等の繊維製品に関する取扱い表示は、家庭用品品質表示法に基づく繊維製品品質表示規程の平成 27 年 3 月 30 日改訂により、平成 28 年 12 月 1 日から JIS L 0001: 2014「繊維製品の取扱いに関する表示記号及びその表示方法」に規定する記号に変更されました。

この新しい取扱い表示の基本記号は 5 個であり、(A) 処理はおけの形 , (B) 処理は三角形 , (C) 処理は正方形 , アイロン仕上げ処理はアイロンの形 , (D) 処理は円  で表わされます。

(問 1) A～D に最も適した語句を記入しなさい。

(問 2) 新しい取扱い表示に変更した意義について、説明しなさい。

(問 3) 新しい取扱い表示を普及させるために、どのような取り組みをすればよいか、あなたの提案を 2 つあげ、説明しなさい。

〔2〕 次の問いに答えなさい。

中学生のAさんは、ゆで卵を添えたカレーライスを食べようと考えた。そこで、アルミ製パックのレトルトカレー、生卵、冷凍した米飯を用意した。台所には、電子レンジとガスコンロがあるが、電子レンジのみを使用して加熱調理に取りかかった。

(問1) この調理における危険性を2つ指摘しなさい。また、その危険を避けるためには、どのように加熱調理を行えばよいか、それぞれ説明しなさい。

(問2) 電子レンジの加熱原理について述べなさい。

(問3) 電子レンジによる加熱調理が食生活に与える影響を2つあげ、説明しなさい。

〔3〕 次の問いに答えなさい。

(問1) 以下の A～D の子どもの遊びを、子どもの発達に沿って並べなさい。

A. 平行遊び	B. 集団遊び	C. 傍観遊び	D. ひとり遊び
---------	---------	---------	----------

(問2) 「ごっこ遊び」の例を2つあげなさい。また、「ごっこ遊び」は、子どものどのような能力を発達させるか述べなさい。

(問3) 子どもの遊びをめぐる現代の課題について、仲間、空間、時間の3つの観点から述べなさい。